

Winnie-the-Pooh'un 30 litrelik fıçısında 26 litre bal var. Winnie ve misafirleri 17 litre bal yerler. Winnie-the-Pooh fıçıyı doldurmak için fıçıya kaç litre bal koymalıdır?



A) 18

B) 20

C) 21

D) 24

E) 26

2,4,6,8,2,4,6,8,2,4,6,8,... sayı dizisindeki ilk 22 sayının toplamı nedir ?

A) 44

B) 66

C) 88

D) 106

E) 440

Aşağıdaki kutulara 2, 3, 4, 5 ve 6 rakamlarından dört tanesi, her kutuya bir rakam gelecek şekilde yerleştirilecektir.

$$\square \times \square = \square \times \square$$

Eşitliğin doğru olması için bu rakamlardan hangisi kullanılamaz?

- A)2 B)3 C)4 D)5 E)6

Bir atlıkarıncada arabaların renkleri sırasıyla kırmızı, yeşil şeklinde değişmektedir. Her kırmızı arabayı bir geyik, her yeşil arabayı da iki at çekmektedir. Tüm arabalar toplam 15 hayvan tarafından çekildiğine göre toplam kaç at vardır?

- A) 2 B) 4 C) 5 D) 8 E) 10

Bir bahçede 20 çiçek vardır. Bu çiçeklerin renkleri sırasıyla sarı, turuncu, kırmızı, sarı, turuncu, kırmızı biçiminde devam etmektedir. Her çiçeğin üzerine sırasıyla bir uğurböceği, bir arı, bir sinek ve bir kelebek konmuştur. İlk sekiz çiçek resimde gösterilmektedir. Buna göre, turuncu çiçeklerin üzerinde toplam kaç arı vardır?



A)1

B)2

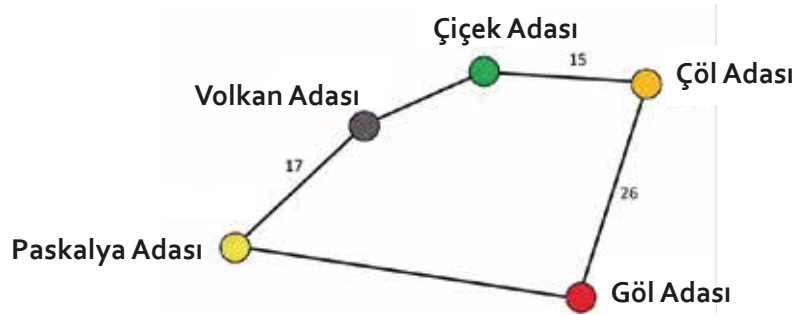
C)3

D)4


E)5

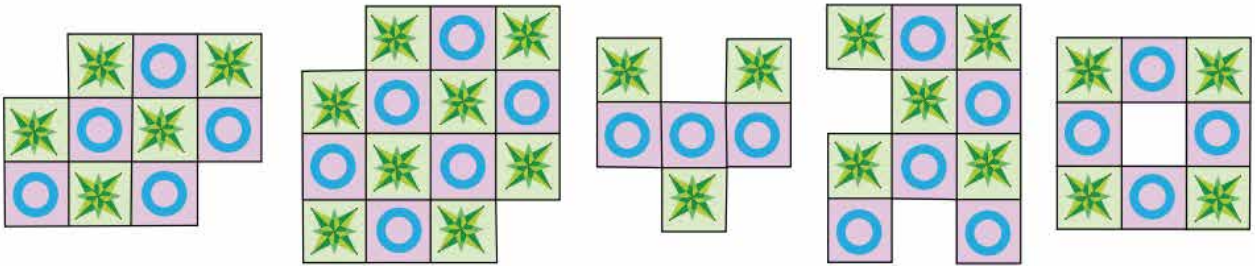
Denizci Kerem, Paskalya Adası'ndan başlayarak bütün adalardan geçip tekrar Paskalya adasına döndüğünde toplam 100 km yol gitmiş oluyor.

Çiçek adasından başlayıp, Volkan adasına uğrayarak Paskalya adasına giden yol uzunluğu tam Çöl adası ile Göl adası arasındaki mesafe ile aynıdır. Paskalya adası Göl adası arasındaki mesafe kaç km'dir ?



- A) 17 km B) 23 km C) 26 km D) 33 km E) 35 km

Aşağıda verilen 5 resimden kaç tanesi  yandaki 2x1 karoların çeşitli şekillerde döndürülerek üst üste gelmeyecek şekilde birleştirilmeleriyle oluşturulabilir ?



A)1

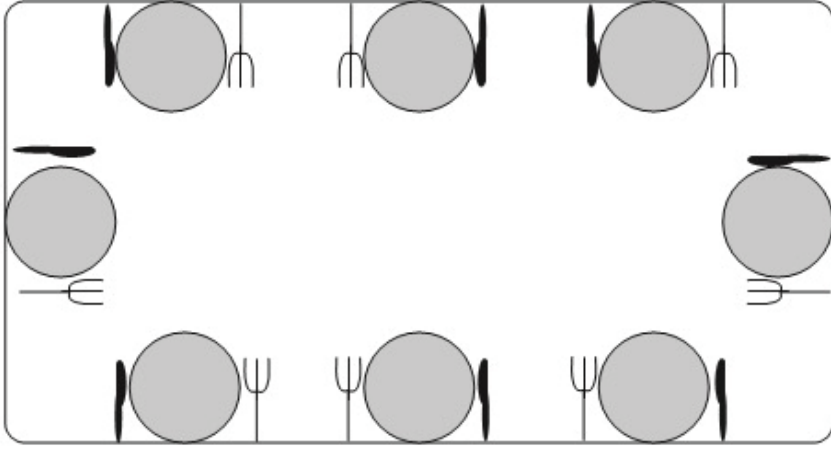
B)2

C)3

D)4

E)5

Gamze'nin 8 kişilik masaya servis yapması gerekiyordu. Kendisinden her kişinin soluna bir çatal, sağına ise bir bıçak koymasını istendi. Bu durumda Gamze kaç kişiye doğru şekilde servis yaptı?



A)2

B)3

C)4


D)5

E)6

Ayşe, Banu, Canan ve Didem kuka oyunu oynamayı çok seviyorlar. Evlerinde bir çok kırmızı ve birçok mavi kukaları var ve bazılarını yanyana sıraya koymak istiyorlar. Ancak bu sıralama içinde bazı kurallar belirliyorlar. Buna göre;

- 1) Soldan üçüncü kuka mavi olmalıdır;
- 2) Bir kuka kırmızıysa ve sağında bir kuka varsa, bu kuka da kırmızı olmalıdır.

Aşağıda her birinin yaptığı sıralamayı görebilirsiniz. Buna göre kim kurallara uymamıştır?



- A) Sadece Ayşe B) Sadece Banu C) Hem Banu hem Canan
D) Hem Ayşe hem Didem E) Hem Ayşe hem Canan

Yeliz 1 ile 9 arasında bir rakam yazar. Sonra 2 basamaklı bir sayı olsun diye soluna bir rakam daha yazar. Daha sonra 23 ekler ve sonuç 66 olur. Yeliz'in başlarken yazdığı rakam kaçtır?

A)7

B)5

C)4

D)3

E)2

Büyük bir kare 9 küçük eşit kareye bölünmüştür. ♣'in çizildiği kare, O'nin çizildiği karenin üstünde ve ♥'nin bulunduğu karenin solundadır.

Bu kare aşağıdakilerden hangisi olabilir ?

- A)

♥	♣	△
★	□	♠
○	▽	◇
- B)

♣	♥	△
★	□	♠
○	▽	◇
- C)

○	♥	△
★	□	♠
♣	▽	◇
- D)

○	♥	△
★	♣	♠
□	▽	◇
- E)

○	★	△
♥	♣	♠
□	▽	◇

Üç kanguru kardeş Ahmet, Betül ve Cem'in tek renkli birer sırt çantaları vardır.Çantalardan biri mavi, diğeri yeşil ve sonuncusu sarı renktedir.Cem'in sarı bir sırt çantası vardır. Ahmet'in sırt çantası yeşil değildir. Buna göre Betül'ün sırt çantası ne renktir?

A)Sarı

B)Yeşil

C)Cem'in çantasıyla aynı

D)Mavi

E)Bilinmesi imkansızdır



Bir saray falcısı, her akşam sonraki günün hava durumunu tahmin etmektedir. Eğer sonraki günün hava durumunu doğru tahmin ederse kral ona 4 altın veriyor ancak yanlış tahmin ederse 3 altın geri alıyor.


35 günün sonunda saray falcısının herhangi bir altın kazancı veya kaybı olmamıştır. Buna göre falcı kaç tane doğru tahmin yapmıştır ?

- A)12 B)15 C)18 D)20 E)25






$$2022 + 2022 + 2022 + 2022 + 2022 + 2022 + 2022 + 2022 + 2022 + 2022 + 2022 + 2022 + 2022 + 2022 + 2022 + 2022 + 2022 + 2022 + 2022 + 2022 = ?$$

A) 20220 B) 40044 C) 40440

D) 44440 E) 80880



Yukarıdaki diskte bulunan iki renk (Siyah, Sarı) yer değiştirdiğinde, aşağıdakilerden hangisi oluşur ?

- A) 
- B) 
- C) 
- D) 
- E) 

Lale'nin ařağıdaki gibi 3 yapboz parçası vardır.
Bu parçaları kullanarak, sağıdaki yapboz çerçevesini
kaç farklı şekilde doldurabilir ?



A) 1

B) 2

C) 3

D) 4

E) 6

Kurbi, labirentte çiçeklere giden en kısa yolu bulabilen akıllı bir kurbağadır. Sağdaki labirentte çiçeklere giderken kaç kelebek ile karşılaşır ?



A) 4


B) 10

C) 5

D) 6

E) 7

Hergün iki havuç yiyen bir tavşanın 20 havucu vardır. Bu havuçlardan 12. havucu çarşamba günü yediğine göre, havuçları yemeye hangi gün başlamıştır ?



- A)Cuma B)Çarşamba C)Pazartesi
D)Salı E)Pazar

Aşağıdaki resim belirli bir ayın takvimini göstermektedir. Ne yazık ki takvime bir miktar mürekkep dökümüştür ve resmin bir kısmı görünmemektedir. Bu ayın 25'i hangi gündür ?

P	S	Ç	P	C	Ct	P
		1	2	3		5
6	7					
13	14					

A) Pazartesi

B) Çarşamba

C) Cuma

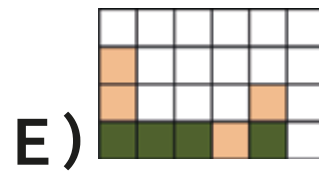
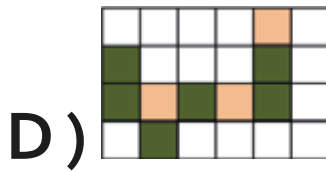
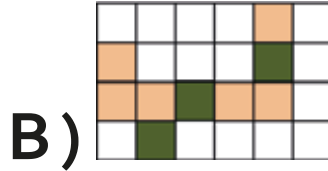
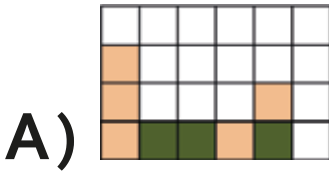
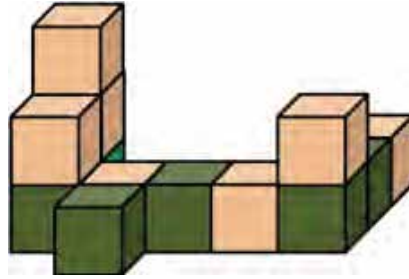
D) Cumartesi

E) Pazar

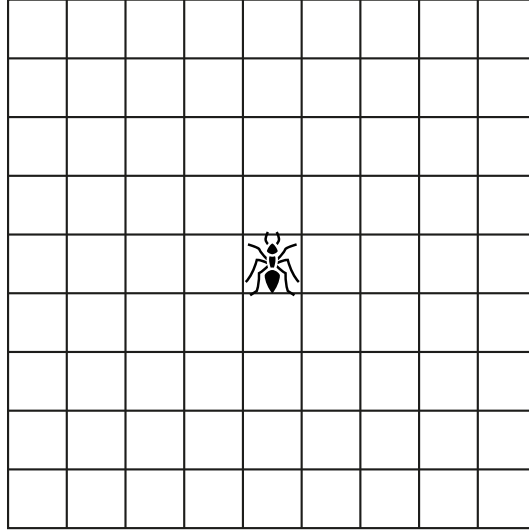
Bir çiçekçide kırmızı ve beyaz güller, mor ve pembe laleler, turuncu ve sarı menekşeler vardır. Elif bir gül, bir lale ve bir menekşeden oluşan buketler yapıyor. Elif kaç farklı renkte buket yapabilir?

- A)6 B)8 C)9 D)10 E)12


Aşağıdaki şekle yukarıdan bakarak planını çizen çocuklar hangi çizimi elde ederler ?



9x9'luk bir tahtanın tam ortasındaki karede bir karınca durmaktadır. İlk adımını yatay veya dikey olarak 1 kare hareket edebilir. Daha sonra her hamlesinde yatay veya dikey yönde olarak 2 kare olarak tekrar hareket edebilir. Daha sonra 3 kare ve devamında da bu şekilde hareket edebilir. Tahtanın tam kenarına gelebilmesi için yapması gereken minimum hamle sayısı nedir?

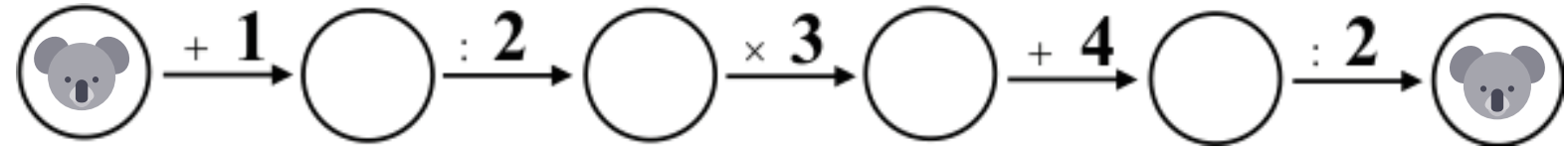


- A) 6 B) 7 C) 8 D) 9 E) 10



KANGURU MATEMATİK

Bir sayıya çeşitli işlemler uygulanarak yine aynı sayı elde ediliyor. Aşağıda bu işlemler sırasıyla gösterilmiştir. Buna göre Koala resmi yerine hangi sayı gelmelidir?



A)5

B)7

C)9

D)11

E)13